

نام:

بسمه تعالی

خرداد

نام خانوادگی:

آزمون مطالعات اجتماعی پایه ششم / ان /

زمان پاسخ گویی: ۹۰ دقیقه

نمونه الف

ردیف	سوال
	<p>الف- درستی یا نادرستی جملات زیر را با علامت (×) مشخص کنید.</p> <p>۱- در کارگاه تولید پوشاک، برش کار از روی الگوهایی که دارد پارچه ای را می دوزد <input type="checkbox"/> درست <input type="checkbox"/> نادرست</p> <p>۲- تجارت موجب رشد شهرها و شهرنشینی در اروپا شد. <input type="checkbox"/> درست <input type="checkbox"/> نادرست</p> <p>۳- خط مرزی تنها روی زمین است. <input type="checkbox"/> درست <input type="checkbox"/> نادرست</p> <p>۴- شهید محمد جهان آرا فرمانده سپاه پاسداران خرمشهر بود. <input type="checkbox"/> درست <input type="checkbox"/> نادرست</p> <p>۵- زائران ایرانی به قصد زیارت حرم حضرت علی (ع) به سوریه سفر می کنند. <input type="checkbox"/> درست <input type="checkbox"/> نادرست</p> <p>ب- گزینه صحیح را با علامت (×) مشخص کنید.</p> <p>۱- یادگیری کدام مهارت تصمیم گیری، می تواند ما را در برابر فشار روانی دیگران ایمن نگه دارد؟ الف) کتابخوانی <input type="checkbox"/> ب) دوست یابی <input type="checkbox"/> ج) نه گفتن <input type="checkbox"/> د) ورزش <input type="checkbox"/></p> <p>۲- بیشترین سوخت مصرفی نیروگاه های حرارتی برق کشور..... است. الف) نفت <input type="checkbox"/> ب) گاز <input type="checkbox"/> ج) بنزین <input type="checkbox"/> د) نفت و گاز <input type="checkbox"/></p> <p>۳- کدام یک از جزایر زیر به کشور ایران تعلق دارد؟ الف) قشم <input type="checkbox"/> ب) کیش <input type="checkbox"/> ج) ابوموسی <input type="checkbox"/> د) همه موارد <input type="checkbox"/></p> <p>۴- اولین کار در هنگام تصمیم گیری کدام است؟ الف) مشورت کردن با دیگران <input type="checkbox"/> ب) انتخاب یک راه حل خوب <input type="checkbox"/></p> <p>ج) خوب فکر کردن و جمع آوری اطلاعات <input type="checkbox"/> د) پیش بینی نتایج <input type="checkbox"/></p> <p>۵- در چه مکانی می توانیم انواع لباس های محلی را مشاهده کنیم؟ پارک <input type="checkbox"/> مسجد <input type="checkbox"/> دانشگاه <input type="checkbox"/> موزه مردم شناسی <input type="checkbox"/></p> <p>ج- جملات زیر را با کلمات مناسب کامل کنید.</p> <p>۱- مدارسی که عده زیادی از افراد در آن علم می آموختند و حکومت خرج تحصیل آنها را می داد..... می گفتند (رصدخانه-نظامیه)</p> <p>۲- نوشته هایی بر روی سنگ، کاشی و مانند آن را می نامند (کتیبه - محراب)</p> <p>۳- با تشکیل جمهوری اسلامی، ایران یاور مظلومان در جهان شد و از مبارزه مردم..... حمایت کرد. (یمن-فلسطین)</p> <p>۴- مقدار منابع نفت و گاز در خلیج فارس، آنقدر زیاد است که به این منطقه..... می گویند. (بازار جهان-انبار نفت جهان)</p>

د- به سوالات زیر پاسخ دهید:

۱- آیا یک پدیده طبیعی می تواند مرز دو کشور باشد؟ توضیح دهید.

۲- دو شباهت بین ایران و کشورهای همسایه را بنویسید.

۳- بودجه یعنی چه؟ در یک جمله توضیح دهید.

۴- از روی لباس گروه های مختلف اجتماعی به چه چیزی پی می بریم؟

۵- انرژی های نو را در یک سطر توضیح دهید.

۶- مسجد شیخ لطف اله به فرمان چه کسی ساخته شد و مخصوص چه کاری بود؟

۷- علی دیشب بر سر خاموش کردن لامپ های اضافی که اعضای خانواده نسبت به آن بی تفاوت هستید، اصرار می ورزید، علت چیست؟ (۲ دلیل بیاورید).

ه- از دو سوال زیر فقط یکی را انتخاب و به آن پاسخ دهید:

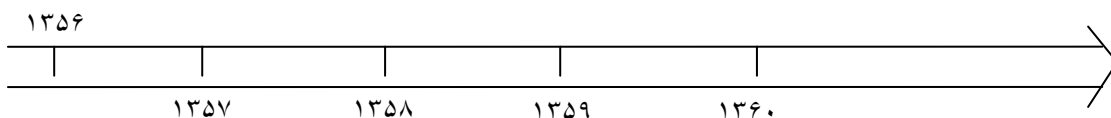
الف- سعید سعی دارد با پوشیدن شلوار جین نامناسب و کوتاه و آرایش موی عجیب خود را شهرنشین پیشرفته نشان دهد. ولی دوستش رضا با او موافق نیست. چرا؟

ب- مریم هرچند وقت یک بار دچار خواب آلودگی می شود، دعوا می کند و نمراتش افت کرده، و توجهش به مطالب درسی کلاس کم شده است، فکری به حال او کنید با توصیه های مناسب مشکل او را حل کنید.

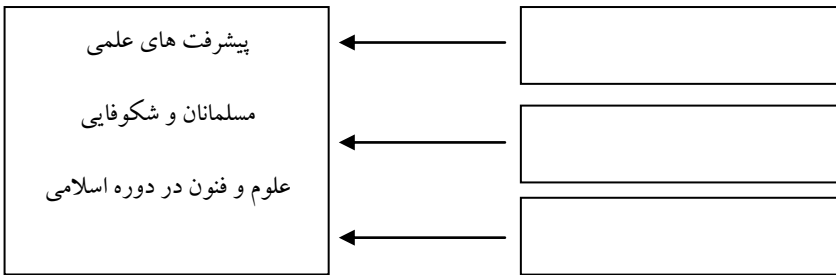
و- وقایع زیر را در خط زمان نشان دهید. (سال ها را می توانید به ماه تقسیم کنید).

الف - ۳۱ شهریور ۱۳۵۹ (آغاز جنگ تحمیلی)

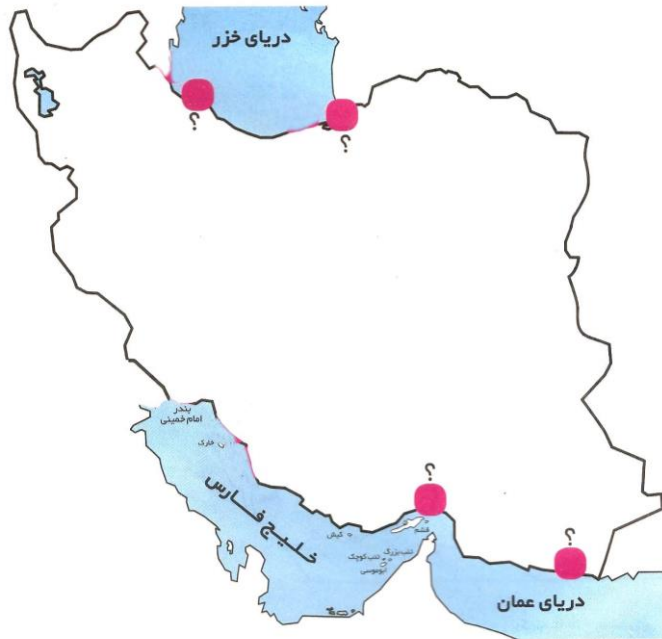
ب - ورود امام خمینی (ره) به ایران ۱۲ بهمن ۱۳۵۷



ز- نمودار زیر را کامل کنید.



ح- نام دو بندر دریای خزر و دو بندر در دریای عمان و خلیج فارس را بنویسید.



ط- درباره یکی از آثار تاریخی شهری که در آن زندگی می کنید ۳ سطر بنویسید.

اگر می توانید موقعیت آن را در یک خیابان یا قسمتی از نقشه شهر نشان بدهید.