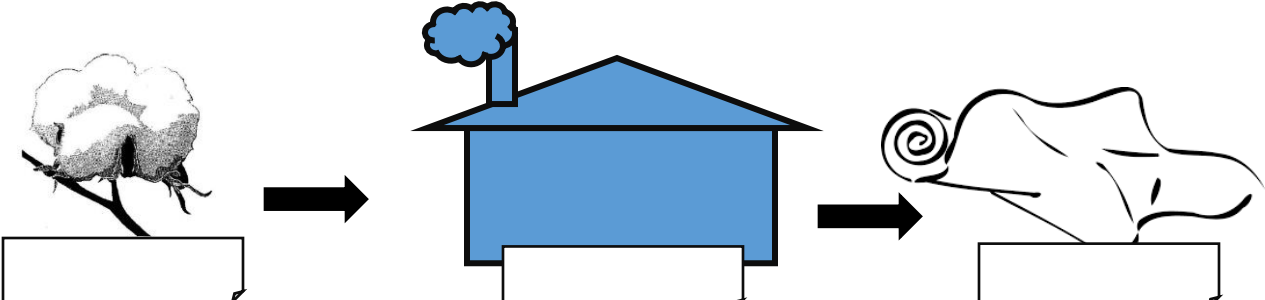


۱	اولین کسانی که با کندن قنات از آب های زیر زمینی استفاده کردند چه کسانی بودند؟ الف) ایرانیان <input type="checkbox"/> ب) مصریان <input type="checkbox"/> ج) عرب های صحرا نشین <input type="checkbox"/> د) چینی ها <input type="checkbox"/>
۲	کوچک ترین کشور همسایه ی ایران کدام است ؟ الف) افغانستان <input type="checkbox"/> ب) ارمنستان <input type="checkbox"/> ج) عراق <input type="checkbox"/> د) پاکستان <input type="checkbox"/>
۳	نمایندگان مجلس شورای اسلامی هر چند سال یک بار انتخاب می شوند؟ الف) هر چهار سال یک بار <input type="checkbox"/> ب) هر پنج سال یک بار <input type="checkbox"/> ج) دائمی هستند <input type="checkbox"/> د) هر دو سال یک بار <input type="checkbox"/>
۴	کدام مورد از وظایف دولت نیست ؟ الف) اجرای قوانین <input type="checkbox"/> ب) تأمین وسایل رفاه و آسایش مردم <input type="checkbox"/> ج) دفاع از کشور در برابر حمله ی دشمن <input type="checkbox"/> د) رسیدگی به شکایت ها و اختلافات مردم <input type="checkbox"/>
۵	عبارت های زیر را کامل کنید. مهم ترین راه ارتباط انسان ها با یکدیگر است . محدوده ای که هیچ کس نباید بدون اجازه و رضایت شما وارد آن شود..... نام دارد. یکی از دلایل افزایش جمعیت در یک ناحیه ، مردم از نواحی دیگر به آن جاست. به وسایلی که مردم و کالا ها را جابه جا می کنند می گویند.
۶	هر پاسخ را به عبارت مربوط به آن وصل کن . خرید و فروش در داخل کشور یا با کشورهای دیگر را می گویند. راه هایی که مسیر رفت و برگشت با مانع هایی از هم جدا شده اند. تغییراتی که کارگران در کارخانه ها روی مواد اولیه می دهند. مواد و کالاهایی که ما به کشور های دیگر می فروشیم .
۷	کلمه های مقابل را در محل مناسب بنویس. (کارخانه - کالا- ماده ی اولیه) 

آزاد راه

صنعت

واردات

صادرات

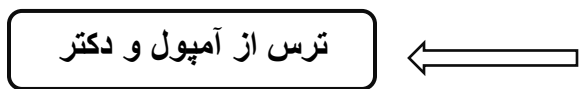
بازرگانی

۸

جاهای خالی را پر کن .



انواع ترس





۹

نام سازمان های زیر و وظیفه ی آن را بنویس .



نام سازمان :



نام سازمان :



وظیفه:

۱۰

دو وسیله ی نقلیه ی زیر را باهم مقایسه کن و در باره ی خوبی ها و عیب های هر یک بنویس.



۱۱

تفاوت صنایع مادر و صنایع مصرفی را بنویس با ذکر مثال.