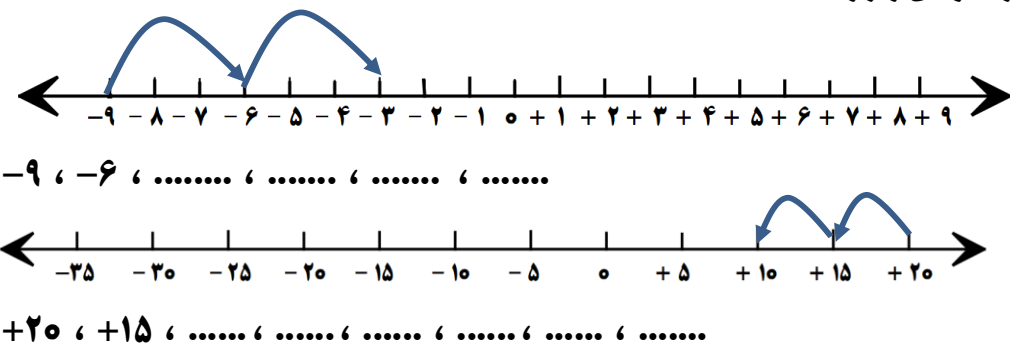
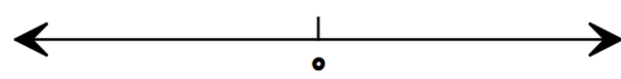
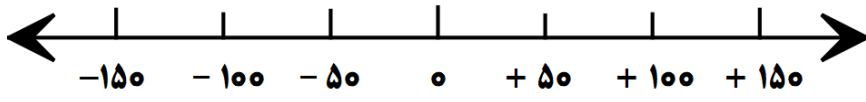


<table border="1"> <tr> <td>نادرست</td> <td>درست</td> </tr> <tr> <td> </td> <td> </td> </tr> <tr> <td> </td> <td> </td> </tr> <tr> <td> </td> <td> </td> </tr> </table>	نادرست	درست							<p>۱ درست یا نادرست بودن جمله های زیر را مشخص کنید . الف) قرینه ی هر عدد از خود آن عدد بزرگ تر است . ب) بزرگ ترین عدد منفی دو رقمی ۱۰- است . ج) هنگام نوشتن اعداد صحیح منفی می توانیم علامت عدد را نگذاریم .</p>	<p>۱</p>
نادرست	درست									
	<p>۲ جاهای خالی را با کلمات مناسب پر کنید . الف) قرینه هر عددمنفی ، عددی است . ب) فاصله ۲- تا صفر به اندازه فاصله صفر تا است . ج) به طور معمول دمای بالای صفر را با علامت و دمای پایین صفر را با علامت مشخص می کنیم .</p>	<p>۲</p>								
	<p>۳ با استفاده از محور ، هر یک از الگوهای زیر را ادامه دهید .</p>	<p>۳</p>								
	<p>۴ اختلاف دو عدد ۲+ و ۳- چند واحد است ؟</p>	<p>۴</p>								
	<p>۵ دمای شهر (الف) ۳- درجه است . دمای شهر (ب) ۱۲ درجه گرم تر از دمای شهر (الف) و دمای شهر (ج) ۴ درجه سردتر از شهر (الف) است . دمای دو شهر (ب) و (ج) را با استفاده از محور به دست آورید .</p>	<p>۵</p>								
	<p>۶ هر یک از اعداد زیر را روی محور به صورت تقریبی نشان دهید . -۱۳۲ ، +۱۲۰ ، -۶۰ ، -۶۸ ، -۸۱</p> 	<p>۶</p>								
	<p>۷ دور عددهای صحیح خط بکشید . $-\frac{1}{2} * +9 * 1/55 * -3 * \frac{7}{3} * 2 * \frac{0}{5}$</p>	<p>۷</p>								
	<p>۸ اگر ساعت ۱۲ ظهر را مبدأ در نظر بگیریم ، هر کدام از زمان های زیر را با یک عدد علامت دار مشخص کنید . الف) ۱۶ : ب) ۱۰ : ج) ۲۰ : د) ۵ :</p>	<p>۸</p>								

ادامه سوالات

۹	<p>هواشناسی هوای شهرها را برای فردا به شرح زیر پیش بینی کرد، دمای هر شهر را با یک عدد علامت دار نشان دهید .</p> <p>الف (یاسوج ۱۲ درجه بالای صفر :) ب (تبریز ۵ درجه زیر صفر :) ج (کرمانشاه ۲ درجه گرم تر از یاسوج :) د (اردبیل ۲ درجه گرم تر از تبریز :)</p>
۱۰	<p>در جای خالی علامت مناسب قرار دهید . (< = >)</p> <p>$9\frac{2}{3} + 10 \bigcirc - 4$ $4 \bigcirc - 4$ $2 + 35 \bigcirc + 2$ $0 \bigcirc - 4$ $-700 - 7 \bigcirc$</p>
۱۱	<p>اعداد زیر را از کوچک به بزرگ مرتب کنید .</p> <p>۰ ، -۹۵ ، -۲ ، +۲ ، -۳ ، ۱۸ ، -۴۰ ، +۹۵</p>
۱۲	<p>وحید در طبقه اول یک ساختمان تجاری مشغول خرید لوازم تحریر بود ، بعددو طبقه بالاتر رفت تا یک توپ والیبال بخرد ، او برای خوردن یک ساندویچ یک طبقه پایین رفت . سپس با آسانسور پنج طبقه پایین آمد تا از پارکینگ خارج شود . مکان وحید در هر طبقه را به صورت یک عدد علامت دار بنویسید . (طبقه هم کف را مبدأ و طبقات بالاتر از آن را مثبت در نظر بگیرید .)</p> <p>مغازه لوازم التحریری : مغازه لوازم ورزشی :</p> <p>ساندویچی : پارکینگ :</p>
۱۳	<p>ستاره در طبقه ی ۳ یک ساختمان ، کتاب کار ریاضی خرید ، سپس ۵ طبقه بالا رفت و یک توپ والیبال خرید ، ۶ طبقه پایین آمد و یک لیوان آب هویج بستنی خورد . حالا با آسانسور می خواهد ۴ طبقه پایین رود تا از پارکینگ خارج شود . او باید کدام دکمه را فشار دهد . (طبقه همکف را مبدأ و طبقات بالای همکف را مثبت در نظر بگیرید .)</p>
۱۴	<p>دمای هوای ارومیه در یک روز تابستانی ۳ + درجه و دمای هوای تهران ۱۰ + درجه است . اختلاف دمای دو شهر در این روز چند درجه است ؟</p>
۱۵	<p>اَونگی را از نقطه ی (۱۲ +) محور اعداد به طرف اعداد منفی رها کردیم . در اولین حرکت ، اَونگ ۲۴ واحد حرکت کرد . اگر اَونگ در هر حرکت نصف مسیر قبلی را طی کند ، در حرکت چهارم روی چه عددی قرار می گیرد ؟</p>