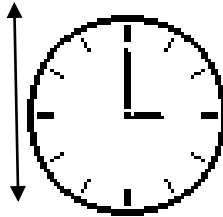
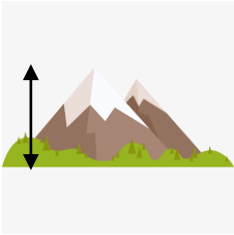


در هر یک از موارد زیر کدام مقدار را اندازه می گیریم؟ ( زمان - طول - سطح - دما )



$4 \times 3 = 12$

.....

۲ جاهای خالی را کامل کنید .

الف)  $1/7$  دسی متر = ..... سانتی متر

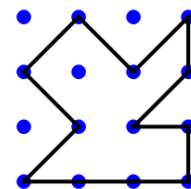
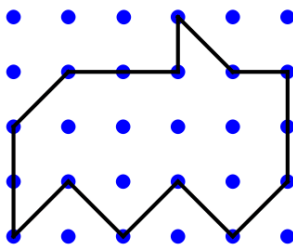
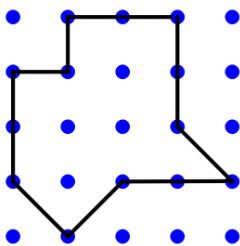
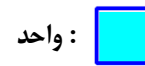
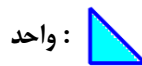
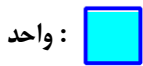
ب)  $356$  میلی متر = ..... متر

ج)  $2/5$  متر = ..... دسی متر

د)  $1200$  میلی متر = ..... متر

۳ طول قد سامان ،  $1/8$  متر و طول قد خواهرش  $14/4$  دسی متر است . طول قد سامان چند برابر طول قد خواهرش است ؟

۴ با توجه به واحد سطح ، مساحت هر شکل را با یک عدد مخلوط بیان کنید .



۵ در جای خالی واحد مناسب بنویسید .

مساحت تخته کلاس ۳ ..... است .

مساحت یک زمین کشاورزی ۳ ..... است .

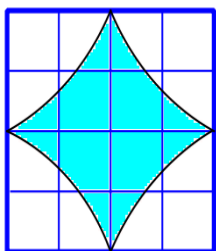
فاصله بین دو شهر ۲۰۰ ..... است .

ضخامت یک کتاب ۲ ..... است .

مساحت یک کتاب ۶۰۰ ..... است .

مساحت اتاق بهروز ، ۱۲ ..... است .

۶ مساحت قسمت رنگی شکل مقابل را به صورت تقریبی و با شمردن مربع ها پیدا کنید .



واحد :

ادامه سوالات

<p>متر مربع</p> <table border="1" data-bbox="331 185 724 259"> <tr> <td>۱</td> <td>۰/۰۸</td> </tr> </table> <p>میلی متر مربع</p> <table border="1" data-bbox="331 259 724 336"> <tr> <td>۱۰۰۰۰۰۰</td> <td></td> </tr> </table>	۱	۰/۰۸	۱۰۰۰۰۰۰		<p>کیلومتر مربع</p> <table border="1" data-bbox="1008 185 1401 259"> <tr> <td>۱</td> <td></td> </tr> </table> <p>هکتار</p> <table border="1" data-bbox="1008 259 1401 336"> <tr> <td></td> <td>۱۰۰</td> </tr> </table>	۱			۱۰۰	<p>به کمک جدول تناسب ، واحدها را به هم تبدیل کنید .</p>	<p>۷</p>											
۱	۰/۰۸																					
۱۰۰۰۰۰۰																						
۱																						
	۱۰۰																					
	<p>دسی متر مربع</p> <table border="1" data-bbox="323 398 716 474"> <tr> <td>۱</td> <td>۵۰</td> </tr> </table> <p>میلیسنتی متر مربع</p> <table border="1" data-bbox="323 474 716 551"> <tr> <td></td> <td></td> </tr> </table>	۱	۵۰			<p>در جای خالی عدد مناسب بنویسید .</p> <p>الف ( ۵۰۰ هکتار = ..... متر مربع</p> <p>ب) ۳۷ کیلومتر مربع = ..... متر مربع</p> <p>ج) ۷۰۰۰ سانتی متر مربع = ..... متر مربع</p> <p>د) ۱/۲ دسی متر مربع = ..... سانتی متر مربع</p>	<p>۸</p>															
۱	۵۰																					
	<p>در نزدیکی شاهرود ، زمینی به مساحت ۳۰ کیلومتر مربع زیر کشت انگور است . اگر سالانه از هر هکتار ۱۵۰۰۰ کیلوگرم انگور به دست آید و هر کیلوگرم به قیمت ۵۰۰۰ تومان صادر شود ؛ درآمد سالانه حاصل از این زمین چقدر است ؟</p>	<p>۹</p>																				
<p>عزیزانم موفق باشید</p>	<p>هر یک از عبارات های ستون راست را فقط به یک عبارت مناسب در ستون سمت چپ وصل کنید .</p> <table border="0" data-bbox="239 1433 1276 1881"> <tr> <td>واحد اندازه گیری مساحت زمین های کشاورزی</td> <td><input type="checkbox"/></td> <td>کیلومتر مربع</td> <td><input type="checkbox"/></td> </tr> <tr> <td>مساحت کشورها را با این واحد اندازه گیری می کنند</td> <td><input type="checkbox"/></td> <td>میلی متر مربع</td> <td><input type="checkbox"/></td> </tr> <tr> <td>واحد مناسب اندازه گیری مساحت یک اتاق</td> <td><input type="checkbox"/></td> <td>هکتار</td> <td><input type="checkbox"/></td> </tr> <tr> <td>واحد مناسب اندازه گیری مساحت یک صفحه ی کاغذ</td> <td><input type="checkbox"/></td> <td>متر مربع</td> <td><input type="checkbox"/></td> </tr> <tr> <td>این واحد از سانتی متر مربع کوچک تر است .</td> <td><input type="checkbox"/></td> <td>سانتی متر مربع</td> <td><input type="checkbox"/></td> </tr> </table>	واحد اندازه گیری مساحت زمین های کشاورزی	<input type="checkbox"/>	کیلومتر مربع	<input type="checkbox"/>	مساحت کشورها را با این واحد اندازه گیری می کنند	<input type="checkbox"/>	میلی متر مربع	<input type="checkbox"/>	واحد مناسب اندازه گیری مساحت یک اتاق	<input type="checkbox"/>	هکتار	<input type="checkbox"/>	واحد مناسب اندازه گیری مساحت یک صفحه ی کاغذ	<input type="checkbox"/>	متر مربع	<input type="checkbox"/>	این واحد از سانتی متر مربع کوچک تر است .	<input type="checkbox"/>	سانتی متر مربع	<input type="checkbox"/>	<p>۱۰</p>
واحد اندازه گیری مساحت زمین های کشاورزی	<input type="checkbox"/>	کیلومتر مربع	<input type="checkbox"/>																			
مساحت کشورها را با این واحد اندازه گیری می کنند	<input type="checkbox"/>	میلی متر مربع	<input type="checkbox"/>																			
واحد مناسب اندازه گیری مساحت یک اتاق	<input type="checkbox"/>	هکتار	<input type="checkbox"/>																			
واحد مناسب اندازه گیری مساحت یک صفحه ی کاغذ	<input type="checkbox"/>	متر مربع	<input type="checkbox"/>																			
این واحد از سانتی متر مربع کوچک تر است .	<input type="checkbox"/>	سانتی متر مربع	<input type="checkbox"/>																			