



## ریاضی

۱- عدد ۳۸ و ۲۴ را روی محور نشان بده.




۲- جدول جمع و تفریق را کامل کن.

+	۵	۸	۹
۷			
۶			

-	۶	۹	۷
۱۸			
۱۴			

۳- در شمارش ۹ تا ۹ تا ، بعد از عدد ۲۷ چه عددی است؟

۴- باتوجه به الگوی عقربه های بزرگ ، در ساعت های دیگر نیز عقربه ی بزرگ را رسم کن.



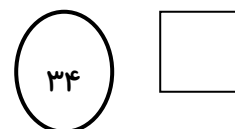
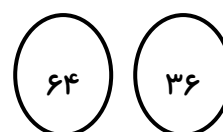
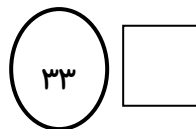
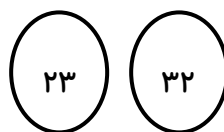
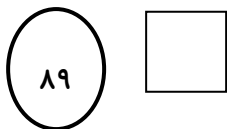
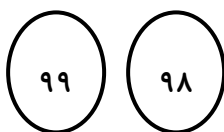
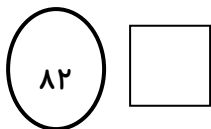
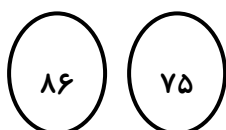
۵- ۳ دسته ی ده تایی به اضافه ۲ دسته ده تایی می شود ..... دسته ی ده تایی .  
..... + ..... = .....

$$۸۰ - ۵۰ = \square$$




..... دسته ی ده تایی منهای ..... دسته ده تایی می شود ..... دسته ی ده تایی

..... دسته ده تایی به اضافه ..... دسته ده تایی می شود ۹ دسته ی ده تایی  
..... + ..... = .....

۶- در هر قسمت ، عددی را که رقم دهگان آن با بقیه فرق دارد ، رنگ کن ، حالا مجموع رقم های رنگ شده را در مربع بنویس .



۷- در یک مسابقه ی والیبال ۲ تیم ۶ نفره با هم بازی می کردند. اگر از هر تیم ۲ نفر بیرون بروند ، چند نفر بیرون رفته اند و چند نفر داخل زمین باقی مانده اند؟

			درست و صحیح نویسی
			تحويل به موقع
			زیبا نویسی و رعایت خط تحریری
			فعالیت ویژه