



تاریخ:

پایه: دوم

به نام خدا
دبستان دخترانه غیر دولتی الغدير

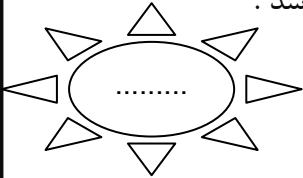
فصل سوم
اشکال هندسی





کلیبرگ شماره: ۱۸

نام و نام خانوادگی:

۱. عددی دو رقمی بنویس که دهگانش بیشترین عدد یک رقمی و یکان آن سه تا کم تر از دهگان آن باشد.



۲. جدول را کامل کن.

		شکل
		تعداد ضلع
		تعداد گوشه



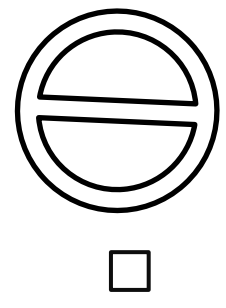


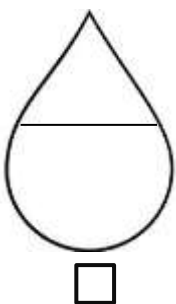
۳. حاصل جمع کمترین و بیشترین عدد دو رقمی را پیدا کن.

.....
+
.....
بیشترین :
کمترین :

۴. زهرا و زینب هر کدام ۲ بسته ی ده تایی و ۴ یکی مداد رنگی دارند. آن ها روی هم چند مداد رنگی دارند؟ (از راه فرایندی)



۵. برای هر شکل یک خط تقارن رسم کن.




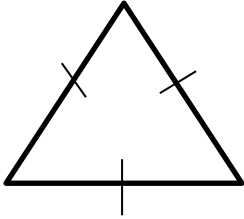
کدام یک از شکل ها بیش تر از یک خط تقارن دارند؟ (با علامت × مشخص کن)

۶. الگوی عددی را ادامه بده .

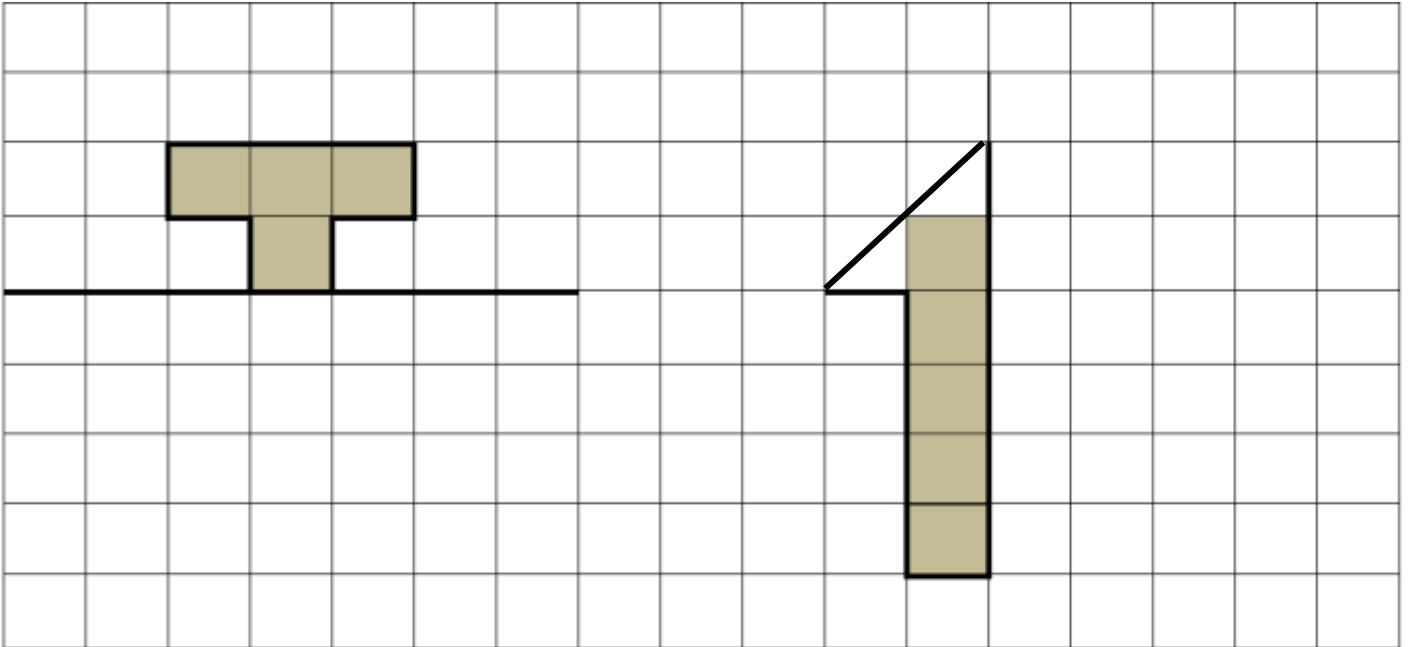


۴ ، ۶ ، ۹ ، ، ،
+۲ +۳

۷. با وصل کردن نقطه های روی هر ضلع به یکدیگر شکل هایی شبیه شکل خودش بساز .



۸. با توجه به خط تقارن طرف دوم شکل را کامل کن .



۹. اعداد بین ۱۲ تا ۳۷ را ۵ تا ۵ تا بنویس .

۱۲ ، ، ، ، ، ۳۷
↘
+۵

۱۰. علامت (< = >) بگذار .

$۶۰ - ۲۰ \square ۴۰ - ۲۰$

$۷۳ \square$ سی و هفت

$۳۰ - ۱۰ \square ۲۰$

$۲۰ + ۵ + ۵ \square$ ۳ بسته ی ده تایی

$۱۰ + ۵۰ + ۲۰ + ۳ \square ۵۰ + ۳۰$

۱۱. پارسا ۱۸ سال دارد . هنگام تولد او پدرش ۳۵ سال داشته است .
حالا پدر پارسا چند سال دارد ؟ (فر آیندی)



۱۲. پاسخ ها را به صورت تقریبی پیدا کن .

۶۷ →

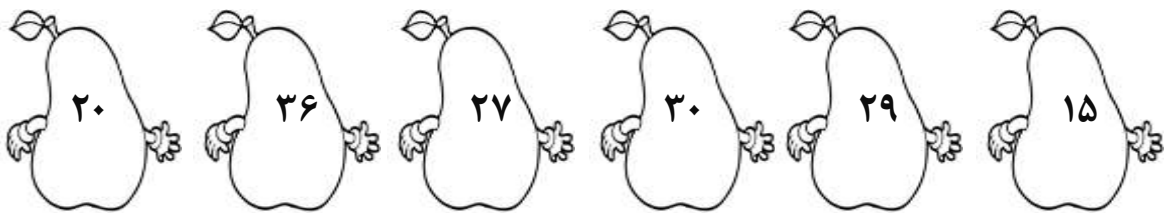
۳۴ →

-۱۲ → +


-۱۸ → -

۱۳. مادر در یک سینی ۴ بستنی وانیلی ، ۵ بستنی شکلاتی و ۱۰ بستنی زعفرانی چیده است .
در این سینی چند بستنی وجود دارد ؟ (از راه چوب خط حاصل را به دست آور)

۱۵. عدد های ۲ رقمی کمتر از ۲۸ را رنگ بزن .



* ۱۶. شکل زیر چند محور تقارن دارد ؟



- الف) ۰ تا
- ب) ۱
- ج) ۴
- د) ۵
- هـ) ۲