



غلط صحیح

۱- نمایش اعشاری کسر $\frac{543}{100}$ به صورت 0.543 است.

غلط صحیح

۲- عدد $3/501$ از عدد $3/051$ بزرگ تر است.

۳- حاصل $1000 \times 5/02$ برابر است با؟

الف) 5020 ب) 50200 ج) 0.502 د) 502

۴- کسر $\frac{45}{50}$ به صورت اعشاری برابر است با؟

الف) 0.45 ب) 0.09 ج) $4/5$ د) 0.9

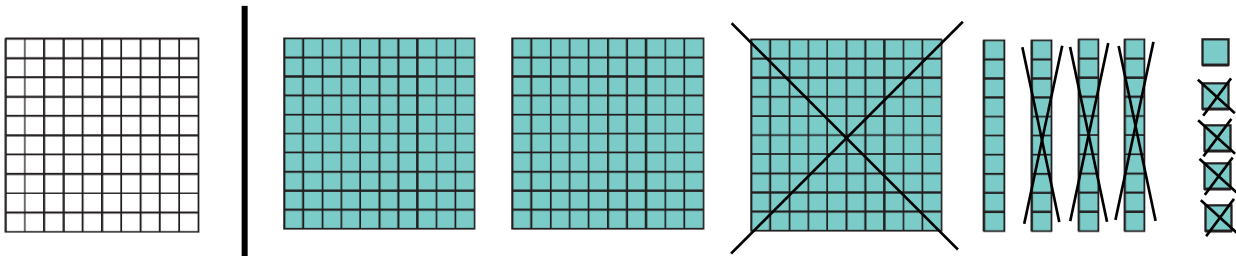
۵- کدام عدد با بقیه برابر نیست؟

الف) 0.75 ب) $\frac{3}{4}$ ج) 0.075 د) 0.750

۶- اگر مقسوم و مقسوم علیه تقسیمی را در یک عدد ضرب کنیم تغییر نمی کند، ولی در همان عدد ضرب می شود.

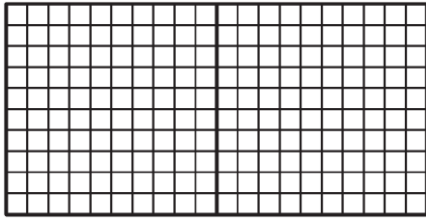
۷- عدد $100907/036$ را به صورت گسترده و با حروف بنویسید.

۸- عبارت شکل زیر را بنویسید و حاصل آن را به دست آورید.




۹- ضخامت ۳۰۰ برگ کاغذ، ۱۸ میلی متر است. ضخامت یک برگ کاغذ، چند میلی متر است؟

۱۰- به کمک شکل، حاصل عبارت‌های زیر را به دست آورید.



$$1/7 \times 0/6 =$$



$$0/9 \div 3 =$$

۱۱- تقسیم زیر را تا دو رقم اعشار در خارج قسمت به دست آورید و باقی مانده را مشخص نمایید.

$$8/9 \overline{) 0/23}$$

۱۲- حاصل عبارت‌های زیر را به دست آورید.

$$12 - 0/8 =$$

$$5/23 + 0/07 =$$

$$0/75 \times 10 =$$

$$1/25 \times 4/5 =$$

$$2/35 \div 100 =$$

$$0/5 \times (2/3 + 0/7) =$$

$$10 \div 100 \times 0/1 =$$

$$0/1 \times 0/01 \times 0/001 \times 10000 =$$

$$\frac{9/23}{10} =$$

$$\frac{0/64}{0/8} =$$