
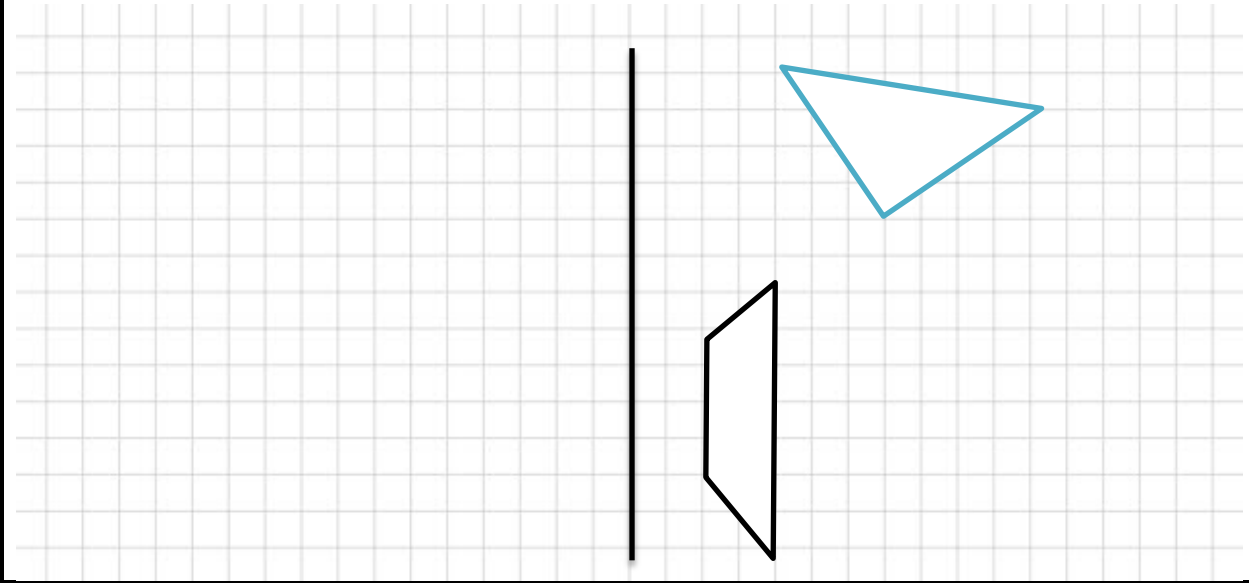


تاریخ امتحان : / / ۹۴ زمان لازم : ۶۰ دقیقه تعداد سوال : ۱۵	به نام خالق زیبایی ها سوالات آزمون ریاضی پایه ی پنجم اداره ی آموزش و پرورش ناحیه ۳ اراک دبستان:	نام : نام خانوادگی: شماره:
توجه فرمائید سوالات در ۳ صفحه تنظیم شده است. صفحه ی ۱		ردیف
اگر عدد (۱۰۳۶۰) را هزار برابر کنیم ارزش رقم ۱ چه قدر خواهد شد؟		۱
با توجه به عدد ۷۸۰۰۵۶۰۷۰۹ به سوالات پاسخ دهید. الف : عدد را به حروف بنویسید. ب: کمترین ارزش مکانی را کدام رقم دارد؟		۲
عملیات زیر را انجام دهید و در صورت امکان پاسخ را ساده کنید. $\frac{6}{9} \times \frac{5}{8} =$ $۱۰ \frac{3}{6} - ۷ \frac{1}{4} =$ $۲ \frac{3}{8} + ۵ \frac{2}{7} =$ $\frac{7}{5} \div ۲ =$		۳
مقدار تقریبی عدد (۸۷۹۵۱۶۰۰۰) با تقریب کمتر از یک میلیون را بنویسید.		۴
اگر در یک شبانه روز از فصل زمستان طول شب ۲۱ ۵۰ ۱۳ باشد طول روز را حساب کنید.		۵
کسر را به عدد مخلوط، و عدد مخلوط را به کسر تبدیل کنید. $\frac{۸۴}{۹} =$ $۹ \frac{۵}{۷} =$		۶
در الگوی اعداد مثلثی عدد دهم کدام است؟ <input type="checkbox"/> الف: ۵۷ <input type="checkbox"/> ب: ۵۵ <input type="checkbox"/> ج: ۷۸ <input type="checkbox"/> د: ۶۵		۷


$\frac{3}{5} \bigcirc \frac{7}{9}$	$\frac{40}{4} \bigcirc \frac{81}{9}$	$4 \frac{7}{15} \bigcirc 4 \frac{2}{3}$	$\frac{7}{7} \bigcirc \frac{8}{5}$	<p>مقایسه کنید و علامت $<=>$ بگذارید.</p> <p>۸</p>
<p>دبستانی ۳۰۰ دانش آموز دارد. ۲۵٪ آنها برای خرید کتاب به نمایشگاه کتاب رفته اند. چند نفر به نمایشگاه رفته اند.</p>				<p>۹</p>
<p>نسبت پول رضا به علی مثل ۴ به ۵ است. اگر آن هاروی هم ۱۸۰۰۰ تومان داشته باشند، سهم هریک چقدر است؟</p>				<p>۱۰</p>
<p>حاصل ضرب زیر را به روش مساحتی و با رسم شکل به دست آورید.</p> $3 \frac{4}{5} \times 2 \frac{1}{2} =$				<p>۱۱</p>
<p>یک پدر هر ماه $\frac{1}{5}$ حقوقش را بین ۴ فرزند خود تقسیم می کند. چه کسری از حقوق پدر به هر فرزند می رسد؟</p>				<p>۱۲</p>
<p>نسبت وزن علی به پدرش مثل ۳ به ۸ است. اگر پدر علی ۷۲ کیلو گرم وزن داشته باشد وزن علی چند کیلو گرم است؟</p>				<p>۱۳</p>
<p>چند درصد شکل مقابل رنگ شده است؟</p>				<p>۱۴</p>



قرینه ی هر شکل نسبت به خط تقارن را رسم کنید.



جیریایی سرگروه آموزشی پنجم ناحیه ۲ اراک



بازخورد آموزگار

--