

۱. یک مغازه دار کتابی را ۳۵۰ تومان می خرد و ۴۰۰ تومان می فروشد. پس از پر کردن جدول زیر به سوال ها پاسخ دهید:

کتاب	۱						
سود							

- اگر ۳ کتاب بفروشد، چند تومان سود می کند؟
- چند کتاب بفروشد تا ۲۰۰ تومان سود کند؟
- چند کتاب بفروشد تا با آن، یک کتاب بخرد؟

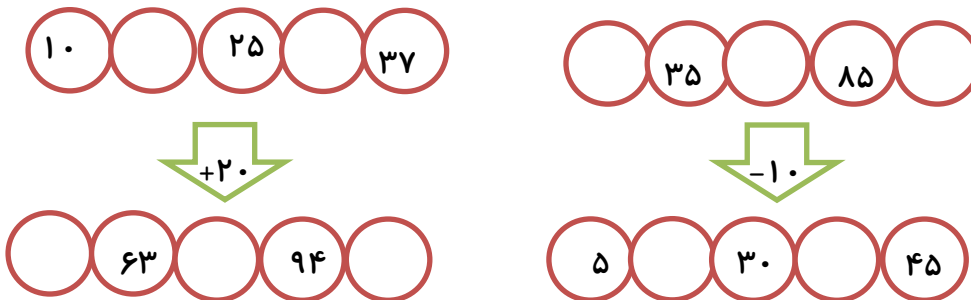
۲. الگو های زیر را ادامه دهید.

۳-۶-۹-۱۲-.....-.....-.....-.....-.....

۱-۴-۹-۱۶-.....-.....-.....-.....-.....

۴۵-۵۰-۵۵-.....-.....-.....-.....-.....

۳. جا های خالی را کامل کنید.



روز	۱						
دقیقه	۱۰						

۴. محمد کلاس سوم است . روز اول او ۱۰ دقیقه مطالعه می کند. اگر او هر روز ۵ دقیقه بیشتر مطالعه کند، پس از چند روز می تواند ۴۵ دقیقه مطالعه کند.

۵. جمع های زیر را به صورت ذهنی انجام دهید.

$$۳+۵+۷+۴+۱ =$$

$$۴+۶+۳+۵ =$$

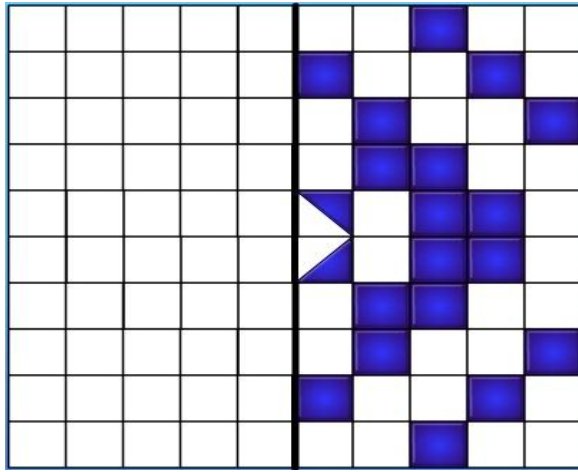
$$۲+۷+۴+۳ =$$

$$۸+۳+۵+۲+۷ =$$

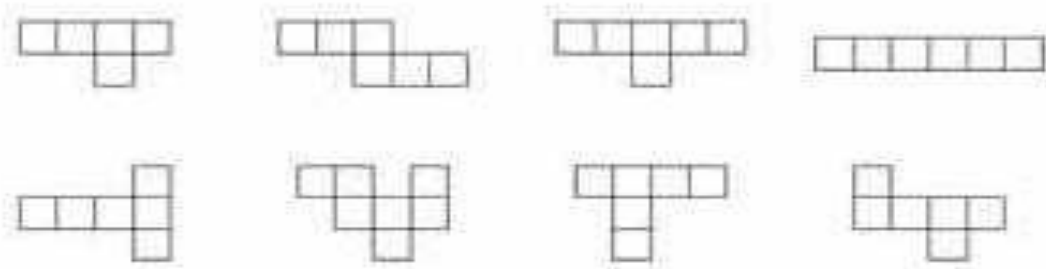
۶. جدول زیر را کامل کنید.

زمان	۱۶		۱۷:۱۵		۲۲ و ربع
بعد از ظهر		۲:۲۵		۶:۳۰	

۷. الگوی های متقارن را کامل کنید.



۸. کدام یک از شکل های زیر، باز شده ی یک مکعب است؟ رنگ بزن






۹. امروز پنجشنبه دوم آبان ماه است.

تا آخر این ماه پنجشنبه ها چه روز هایی از ماه هستند؟

آبان ۱۳۳۲						
October-November 2012						
روز هفته - شنبه - ۱۳۳۲ - ۱۳۳۱						
شنبه	یکشنبه	دوشنبه	سه شنبه	چهارشنبه	پنج شنبه	شنبه
					۱	۲
					۳	۴
					۵	۶
					۷	۸
					۹	۱۰
					۱۱	۱۲
					۱۳	۱۴
					۱۵	۱۶
					۱۷	۱۸
					۱۹	۲۰
					۲۱	۲۲
					۲۳	۲۴
					۲۵	۲۶
					۲۷	۲۸
					۲۹	۳۰
					۳۱	

۱۰. به کمک الگوهای شمارش چند تا چند تا، شکل های زیر را دسته بندی کنید و برای هر کدام یک عبارت جمع بنویسید.



.....

.....

.....

ارزیابی معلم:

